


Theorievragen mei 2015

DEZE VRAGEN WORDEN REGELMATIG HERZIEN. DE WEBSITE BEVAT DE MEEST RECENTE VERSIE HEBT.

EVENTUEEL ROULERENDE VERSIES VAN ANTWOORDEN OP DEZE EXAMENVRAGEN ZIJN NIET DOOR DE EXAMENCOMMISSIE IN OMLOOP GEBRACHT. DE EXAMENCOMMISSIE GARANDEERT DE CORRECTHEID VAN DE ANTWOORDEN NIET.

1	Je moet als stuur een C4 de loods uitbrengen. Beschrijf waar je op let, waar jij en de roeiers staan, loopt en welke commando's je geeft.
2	Je moet als ploeg een C4 in het water leggen en loopt ermee van de loopplank af, stuurplaats voorop, richting vlot. Hoe doe je dat?
3	Je staat op het vlot en moet als stuur een gladde boot in het water laten leggen. De roeiers hebben de boot schuin op een schouder. Hoe doe je dat? Welke commando's geef je?
4	Hoe draag je een skiff? Denk aan: Waar pak je hem vast? En waar absoluut niet? Zijn er nog aandachtspunten te noemen?
5	Hoe draag je een dubbeltwee? Denk aan: Waar pak je hem vast? En waar absoluut niet? Zijn er nog aandachtspunten te noemen?
6	Hoe zien de bladen van De Hertog er uit?
7	Waar wordt de C4 getild? Waar mag je de boot vastpakken? Waar absoluut niet?
8	Welke boten kunnen of moeten over een rolbalk of via de rand van het vlot (met een 90graden hoek met het vlot) binnengehaald worden? Welke boten juist nooit?
9	Hoe heet het stangetje waarmee gezorgd wordt dat de riem in de dol blijft?
10	Hoe heet de constructie waarmee de dol aan de boot bevestigd zit?
11	Hoe heet de stang tussen het boord bij het voetenboord en de onderzijde van de dol?
12	Hoe heet de as waar de dol om draait?
13	Hoe heet de stang tussen het boord en bovenzijde van de dol?
14	Wat is bij een houten boot de naam voor de (dikke) dwarsverbindingen binnen in de boot.
15	Wat is bij een houten boot de naam van de balk die onder de boot in de lengterichting loopt.
16	 <p>Je vaart op de Aa in de richting van de roeivereniging. Voor het bruggetje zie je een roeiboort van de andere kant aankomen. Wie heeft er voorrang en waarom? Welke regel geldt er bij twijfel of onduidelijkheid?</p>

17



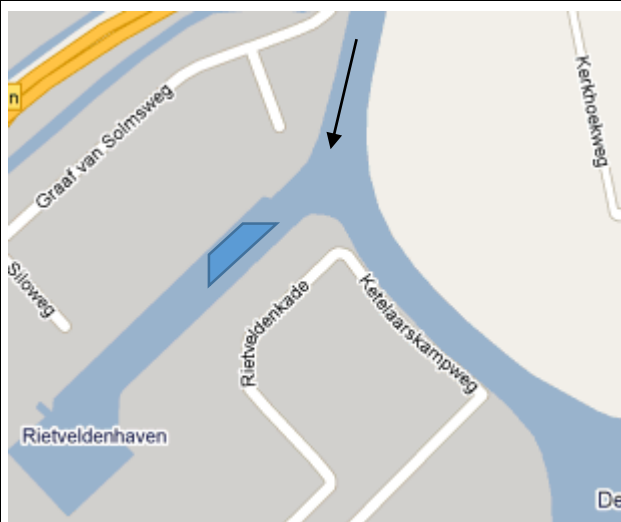
Je komt onder de Trierbrug (Zandzuigerstraat) van de Ertveldplas door de stuurboord doorgang. Een lege vrachtafvaarder komt van de spoorbrug (vanuit de richting van de stad). Heeft deze vrachtafvaarder je gezien? Licht je antwoord toe.

18






Op de Dieze ter hoogte van Engelen in het smalle stuk vaar je redelijk goed aan stuurboord. Een vrachtafvaarder komt je tegemoet, waardoor er flinke golfslag ontstaat. Wat doe je / waar let je op? Noem drie zaken.

19



Je nadert op de Dieze de Rietveldhaven vanuit het noorden. In de monding van Rietveldhaven ligt een vrachtschip met de boeg in de Dieze. Wat doe je en waarom?

20		<p>Je nadert de Rietveldhaven vanuit het noorden. In de monding van Rietveldhaven ligt een vrachtschip met de <u>boeg</u> in de Dieze dat achteruit vaart, dus de Rietveldhaven in. Wat doe je?</p>
21		<p>Je nadert de Rietveldhaven vanuit het noorden. In de monding van Rietveldhaven ligt een vrachtschip met de <u>boeg</u> in de Dieze dat vooruit vaart, dus de Dieze op komt. Wat doe je?</p>
22	<p>Boven een brug hangt een rond rood bord met een witte horizontale balk. Je wilt onder de brug door. Mag dat? Wat betekent het bord?</p>	
23	<p>Het stuurtoew van je C4 is door een onhandigheid onder de boot geslagen en je kunt dus niet meer sturen. Wat doe je? Noem minstens twee mogelijkheden.</p>	
24	<p>Je vaart langs de Oostwal en ziet dat de rondvaartboot je tegemoet komt. Wat doe je?</p>	
25		<p>Je vaart vanaf de Ertveldplas onder de spoorbrug door op weg naar de roeivereniging. Als je langs De Heus (Koudijs) vaart zie je dat onder de Diezebrug een leeg binnenvaartschip je tegemoet komt. Wat doe je? Waarom/leg uit? Kan het schip je zien?</p>

26



Je vaart vanaf de Ertveldplas onder de spoorbrug door op weg naar de roeivereniging. Als je langs De Heus (Koudijs) vaart zie je dat onder de Diezebrug een leegbinnenvaartschip je tegemoet komt. Kan de schipper je zien? Waarom wel/niet?

27 Wat kan er gebeuren als je alle roeiers aan beide boorden tegelijk laat slippen?

28



Je vaart (in een roeiboot) op de Dommel en je komt deze brug tegen. Boven het stuurboord gat hangt een rond, rood bord met een witte horizontale balk in het midden. Welk bruggat mag/moet je (bij voorkeur) nemen? Licht dit toe.

29







Je vaart op de Aa richting de stad. Waar moet je op letten op dit punt?

30



Noem twee bijzonderheden waar je hier op moet letten.

31		<p>Je vaart op de Aa, richting A2. Hier raakt de boot defect, je strandt aan de oever links op de foto en je moet om hulp bellen. Hoe beschrijf je waar je te vinden bent?</p>
32		<p>Waar moet je in het bijzonder op letten als je dit punt passeert? Noem minstens twee zaken.</p>
33		<p>Waar moet je hier op letten als je (op de foto) van links naar rechts vaart? Noem minstens twee zaken.</p>
34		<p>Waar is dit? Waar dien je te varen? Noem minimaal twee zaken waar je op moet letten.</p>
35	<p>Een roeier houdt stuurboordwal. Een zeiler kruist op. Wie heeft er voorrang? Waarom?</p>	
36	<p>Welke twee dingen doe je als roeier/ roeiboort als je wordt ingelopen/ ingehaald?</p>	
37	<p>a. Heeft beroepsvaart/hebben grote schepen >20m/>12 personen voorrang op open water? b. Heeft een zeilboot voorrang op open water? c. Heeft een kleine motorboot (kleiner dan bij a) voorrang op open water? d. Wanneer heeft een roeiboort voorrang op open water?</p>	

38	Noem drie aandachtspunten bij rondmaken?
39	 <p>Waar is dit? Waar moet je hier op letten? Noem minstens twee aandachtspunten.</p>
40	Wat doe je als stuur als je een onoverzichtelijke bocht moet gaan nemen? Noem minstens 2 dingen.
41	Wie heeft er bij een bruggat (waar maar 1 boot tegelijk onderdoor kan) voorrang als twee roeiboten elkaar tegemoet komen? Waarom?
42	Wat zijn de aandachtspunten bij het aanleggen? Noem er minstens drie.
43	Wie heeft er voorrang; een vissersbootje met motor of een roeiboot?
44	Aan welke kant moet je op het water een andere boot inhalen?
45	Als een schip gaat manoeuvreren en achteruit gaat, welk sein kan de schipper dan als waarschuwing laten horen?
46	Boven een bruggat is een enkele gele lamp aangebracht. Moet je rekening houden met tegenliggers als je door dit bruggat wilt varen? Licht toe.
47	Wat doe je als er vissers langs het water zitten? Noem minstens twee aandachtspunten.
48	Wat laat je de boot cq. de roeiers doen en waar moet je rekening mee houden bij het nemen van een bocht? Noem minstens twee aspecten. Wat doe je als je tegen de stroom in vaart?
49	Waar moet je bij hoog water rekening mee houden als je stuurt? Op welke plekken vooral?
50	Waar moet je bij laagwater rekening mee houden als je stuurt? Minimaal twee zaken noemen.
51	Waar moet je op de Ertveldplas op letten? Minimaal drie zaken noemen.
52	Welk commando geef je als de boot door een (te) smal bruggat gaat?
53	Welk commando geef je als je vlak langs een obstakel roeit?
54	Een binnenvaartschip laat met zijn sloopshoorn een lange stoot horen (4 seconden). Wat betekent dit sein?
55	Een binnenvaartschip laat met zijn sloopshoorn een korte stoot horen. Wat betekent dit sein?
56	Een binnenvaartschip laat met zijn sloopshoorn twee korte stoten horen. Wat betekent dit sein?
57	Welk sein met de sloopshoorn geeft een binnenvaartschip wanneer hij achteruit gaat?
58	Wat is er aan de hand wanneer een binnenvaartschipper met zijn sloopshoorn een reeks zeer korte stoten geeft?
59	Je vaart stuurboord wal, er komt een klein motorbootje stroomafwaarts tegemoet, wie heeft voorrang bij een smalle doorgang waar maar één boot door kan?
60	Noem minimaal twee veiligheidsvoorzieningen die een boot moet hebben.
61	Het is september, ongeveer 20° C. De stuurman heeft desondanks een jas aan. De roeiers alleen shirt en korte broek. Voor wie is een zwemvest verplicht? Voor wie wordt het geadviseerd?

62	In oktober is het tamelijk koud, minder dan 10° C. Je gaat het water op met een gladde 4x+ en een ploeg op R2 niveau. Wie moeten allemaal een zwem- of reddingsvest aan bij welke watertemperatuur?
63	Hoe doe je correct een Secumar reddingsvest aan?
64	Hoe controleer je een Secumar reddingsvest. Op welke punten let je?
65	Noem minimaal drie dingen die je veiligheidshalve mee moet nemen als je een toertocht op de Maas gaat maken.
66	Wat moet je meenemen als je een langere tocht wil gaan maken met een roeiboot? Noem minimaal drie zaken.
67	Wat is de belangrijkste vaarregel? Licht deze toe.
68	Welk commando geef je bij een noodstop?
69	Noem 5 omstandigheden waaronder er een vaarverbod geldt.
70	De temperatuur van het water is 5° C, door een ongelukkige manoeuvre kom je in het water terecht. Hoeveel tijd heb je om daar uit te komen volgens de richtlijnen van de KNRM als je stil blijft liggen en je zo klein mogelijk maakt? (Brochure Zeevast Onderkoeling.)
71	De temperatuur van het water is 5° C, door een ongelukkige manoeuvre kom je in het water terecht. Is het zinnig of niet om naar de kant te zwemmen? Waarom/wanneer wel/niet? (Brochure Zeevast Onderkoeling KNRM.)
72	Je gaat aanleggen. Onder welke hoek stuur je op het vlot aan, en waarom?
73	Wat kun je de boeg vragen als je hulp wilt bij het aanleggen?
74	Het waait flink. Waar let je op als je een boot op de schouders wilt dragen? Motiveer je antwoord.
75	Beschrijf de werking van onze rode reddingsvesten.
76	De (rode) reddingsvesten van onze vereniging zijn zó gemaakt dat de drenkeling, ook als hij bewusteloos is, automatisch op de: <ul style="list-style-type: none"> a. buik komt te drijven; b. rug komt te drijven; c. rug komt te drijven, waarbij het hoofd op de kraag rust. Welk antwoord is correct?
77	Het is zaterdagmorgen, spitsuur aan het vlot, je stuurt. Hoe handel je vanaf het moment dat je vanaf de loods met de roeiers en de boot richting het vlot gaat om onveilige situaties op en aan het vlot te voorkomen? Noem minimaal twee belangrijke zaken.